








3.2. Znaki na opakowaniach jednostkowych i zbiorczych

ĆWICZENIE 75

Dopasuj znaki manipulacyjne do odpowiadających im charakterystyk i wpisz pary (cyfra + litera) do wiersza pod tabelą.

Znak manipulacyjny	Charakterystyka
1. 	A. Produkty szybko psujące się
2. 	B. Nie zaczepiać bezpośrednio hakami
3. 	C. Chronić przed upadkiem
4. 	D. Opakowanie hermetyczne
5. 	E. Środek ciężkości
6. 	F. Góra ładunku, nie przewracać
7. 	G. Chronić przed nagraniem
8. 	H. Potwierdzenie zgodności wyrobu
9. 	I. Nie piętzyć ładunku, możliwość uszkodzenia
10. 	J. Nie toczyć
11. 	K. Tu otwierać
12. 	L. Znak bezpieczeństwa
13. 	M. Nie należy chwycić ładunku w tym miejscu
14. 	N. Produkt łatwo tłukący się / Ostrożnie, kruche
15. 	O. Chronić przed wilgocią

ĆWICZENIE 77

Przeanalizuj etykiety dwóch środków czyszczących znajdujących się w Twoim domu, a następnie napisz w pozostawionych wolnych wierszach, co oznaczają zamieszczone na nich znaki.

.....

.....

.....

.....

ĆWICZENIE 78

Poniżej przedstawiono przykładowe znaki informacyjne, które producenci odzieży muszą umieszczać na metkach w celu jej prawidłowej konserwacji. W pozostawionych pustych wierszach wpisz, co oznacza dany znak.

1.  -

2.  -


3.  -

4.  -

5.  -

6.  -

7.  -

8.  -

9.  -

10.  -

ĆWICZENIE 79

Wklej poniżej dwie dowolne metki ubrań lub przerysuj umieszczone na nich znaki informacyjne. W pozostawionych pustych wierszach wyjaśnij wszystkie te znaki.

.....

.....

.....

.....

.....

.....

.....

3.3. Metody ustalania cen

ĆWICZENIE 80

Uzupełnij tabelę, wpisując w prawej kolumnie nazwy metod wyceny rozchodu zapasów scharakteryzowanych w lewej kolumnie.

Charakterystyka metody wyceny rozchodu zapasu	Nazwa metody
1. Uwzględnia się zasadę „pierwsze weszło – pierwsze wyszło”, czyli w pierwszej kolejności wycenia się towary, które jako pierwsze zostały dostarczone do magazynu.	
2. Uwzględnia się zasadę „ostatnie weszło – pierwsze wyszło”, czyli w pierwszej kolejności wycenia się towary, które jako ostatnie zostały dostarczone do magazynu.	
3. Cena ustalana jest poprzez obliczenie średniej ważonej ceny danej kategorii towarów dostarczanych w różnych terminach dostaw do magazynu i po różnych cenach.	
4. Wydawanie towaru z magazynu uzależnione jest od terminu ważności produktu – pierwsze wychodzą z magazynu produkty o najkrótszym terminie ważności.	
5. Wydawanie towarów uzależnione jest od ceny zakupu – najszybciej wydawane z magazynu są towary, które mają najwyższą cenę zakupu.	
6. Metoda ta zakłada, że w pierwszej kolejności wydawane są towary o najniższej wartości, tak aby w magazynie pozostały towary o wyższej wartości.	

ĆWICZENIE 81

Magazynier wydał z magazynu 100 szt. napojów gazowanych Smakuś. Ustal całkowitą wartość zamówienia, którą należy wpisać do dokumentu potwierdzającego wydanie towarów z magazynu, jeżeli:

- rozchód towarów wycenia się według metody FIFO;
- rozchód towarów wycenia się według metody LIFO;
- rozchód towarów wycenia się według cen przeciętnych, czyli tzw. średniej ważonej.

Podczas obliczeń uwzględnij poniższą tabelę, która przedstawia zestawienie ostatnich przyjęć towaru do magazynu.

Data	Numer i nazwa dokumentu	Ilość	Jednostka miary	Cena zakupu netto
06.06.2018	PZ 234	60	szt.	2,40 zł
07.06.2018	PZ 235	70	szt.	2,35 zł
08.06.2018	PZ 236	100	szt.	2,05 zł
09.06.2018	PZ 237	50	szt.	2,50 zł

-
-
-

ĆWICZENIE 82

Magazynier otrzymał zamówienie na 1 tonę mąki. Ustal całkowitą wartość zamówienia, którą należy wpisać do dokumentu potwierdzającego wydanie towarów z magazynu, jeżeli:

- rozchód towarów wycenia się według metody FIFO;
- rozchód towarów wycenia się według metody LIFO;
- rozchód towarów wycenia się według cen przeciętnych, czyli tzw. średniej ważonej.

Podczas obliczeń uwzględnij poniższą tabelę, która przedstawia zestawienie ostatnich przyjęć towaru do magazynu.

Data	Numer i nazwa dokumentu	Ilość	Jednostka miary	Cena zakupu netto
28.07.2018	PZ 348	500	kg	1,05 zł
29.07.2018	PZ 349	750	kg	1,15 zł
01.08.2018	PZ 350	300	kg	1,09 zł
06.08.2018	PZ 351	200	kg	1,11 zł

-
-
-

3.4. Podatek VAT

ĆWICZENIE 83

Wpisz poniżej tytuł najważniejszej ustawy regulującej opodatkowanie podatkiem od towarów i usług. Uwzględniając tekst jednolity tej ustawy, wpisz odpowiednią pozycję Dziennika Ustaw.

ĆWICZENIE 84

Uzupełnij zdania.

1. W celu ustalenia zobowiązania z tytułu podatku VAT należy odjąć od siebie podatek VAT należny i
2. Polska nazwa podatku VAT brzmi
3. Podstawowa stawka podatku VAT wynosi
4. Deklaracja dla podatku od towarów i usług ma symbol Należy ją złożyć do Urzędu Skarbowego do
5. Czynni podatnicy VAT rozliczają się z podatku miesięcznie lub
6. Zwolnienie podmiotowe z opodatkowania VAT dotyczy podatników, którzy nie przekroczyli rocznego limitu sprzedaży w wysokości
7. Podatek VAT należy do grupy podatków

ĆWICZENIE 85

Uzupełnij wzory.

1. $\text{Cena netto} \times \text{ilość} = \dots\dots\dots$
2. $\text{Wartość netto} + \text{kwota podatku VAT} = \dots\dots\dots$
3. $\text{Wartość netto} \times \text{stawka podatku VAT w \%} = \dots\dots\dots$
4. $\text{Wartość brutto} - \text{kwota podatku VAT} = \dots\dots\dots$
5. $\text{Wartość brutto} - \text{wartość netto} = \dots\dots\dots$
6. $\text{Cena brutto} - \dots\dots\dots = \text{kwota podatku VAT}$

ĆWICZENIE 86

Oblicz kwotę podatku VAT i cenę brutto, a następnie wpisz je w odpowiednich komórkach.

Lp.	Cena netto	Stawka podatku VAT	Kwota podatku VAT	Cena brutto
1	100,00 zł	23%		
2	7111,00 zł	8%		
3	1560,00 zł	5%		
4	0,99 zł	23%		
5	1817,00 zł	23%		
6	10 750,00 zł	5%		
7	10 481,00 zł	8%		
8	78,60 zł	0%		
9	8130,00 zł	23%		
10	15 222,00 zł	8%		
11	7896,00 zł	0%		
12	83 239,00 zł	23%		
13	13,42 zł	8%		
14	7618,00 zł	5%		
15	1,54 zł	zw.		

ĆWICZENIE 87

Oblicz wartość netto, kwotę podatku VAT oraz wartość brutto, a następnie wpisz je w odpowiednich komórkach.

Lp.	Ilość	Cena netto	Stawka podatku VAT	Wartość netto	Kwota podatku VAT	Wartość brutto
1	10	110,00 zł	23%			
2	14	80,00 zł	23%			
3	20	70,00 zł	zw.			
4	36	120,00 zł	23%			
5	120	15,00 zł	5%			
6	150	10,00 zł	0%			
7	60	35,00 zł	23%			
8	23	65,00 zł	8%			

ĆWICZENIE 88

Oblicz cenę netto, wartość netto oraz kwotę podatku VAT, a następnie wpisz je w odpowiednich komórkach.

Lp.	Ilość	Cena netto	Stawka podatku VAT	Cena brutto	Wartość netto	Kwota podatku VAT
1	50		23%	350,00 zł		
2	100		23%	400,00 zł		
3	35		23%	200,00 zł		
4	300		23%	560,00 zł		
5	60		23%	1200,00 zł		
6	90		23%	700,00 zł		
7	120		23%	120,00 zł		
8	240		23%	180,00 zł		
9	180		23%	70,00 zł		
10	155		23%	1000,00 zł		

ĆWICZENIE 89

Oblicz brakujące wartości, a następnie wpisz je w odpowiednich komórkach.

Lp.	Ilość	Cena netto	Stawka podatku VAT	Wartość netto	Kwota podatku VAT	Wartość brutto
1	20	0,84 zł	23%			
2	60	5,40 zł	23%			
3	50		23%			4000,00 zł
4	15		23%	1350,00 zł		
5	105	38,00 zł	23%			
6	70		23%			8400,00 zł
7	30	4,20 zł	23%			
8	120		23%	1440,00 zł		
9	50		23%			210,00 zł
10	170		23%	85,00 zł		

ĆWICZENIE 90

Oblicz brakujące wartości, a następnie wpisz je w odpowiednich komórkach.

Lp.	Ilość	Cena netto	Wartość netto	Stawka podatku VAT	Kwota podatku VAT	Wartość brutto
1	43	2,40 zł		23%		
2	0,5		100,00 zł	8%		
3	27,5			23%		640,00 zł
4	84	25,00 zł		zw.		
5	1000		70 000,00 zł	23%		
6	17			5%		63 800,00 zł
7	53	0,99 zł		0%		
8	10,5		1500,00 zł	8%		
9	38			0%		17 800,00 zł
10	7		740,00 zł	23%		

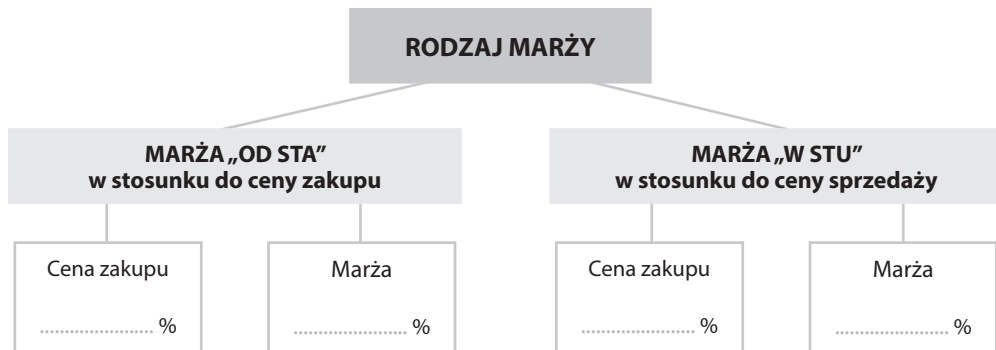
3.5. Marża**ĆWICZENIE 91**

Uzupełnij zdania.

1. Cena zbytu + = cena hurtowa
2. Cena detaliczna – marża detaliczna =
3. Marża hurtowa + marża detaliczna =
4. Cena hurtowa – = cena zbytu
5. Cena detaliczna – cena zbytu =
6. Cena hurtowa + = cena detaliczna

ĆWICZENIE 92

Uzupełnij schemat, zakładając, że marża wynosi 20%.

**ĆWICZENIE 93**

Oblicz odpowiednie wartości, a następnie wpisz je w odpowiednich komórkach.

Lp.	Cena zakupu	% marży	Metoda „od sta”		Metoda „w stu”	
			kwota marży	cena sprzedaży	kwota marży	cena sprzedaży
1	1260,00 zł	27%				
2	72,00 zł	9%				
3	540,00 zł	71%				
4	27,00 zł	15%				
5	86,00 zł	20%				
6	214,00 zł	60%				
7	53,00 zł	15%				
8	28,00 zł	23%				
9	300,00 zł	7%				
10	1,00 zł	11%				
11	990,00 zł	23%				
12	66,00 zł	87%				
13	531,00 zł	20%				
14	0,93 zł	90%				
15	616,90 zł	50%				
16	1050,00 zł	3%				
17	247,50 zł	13%				
18	0,45 zł	55%				